



การลบจำนวนสองจำนวน  
(ไม่มีการกระจาย)

ชุดที่ ๑

เวลา.....ถึง.....วันที่...../...../.....

จงหาคำตอบ

10

๑. 
$$\begin{array}{r} 180 \\ - 100 \\ \hline \hline \end{array}$$

๖. 
$$\begin{array}{r} 5700 \\ - 200 \\ \hline \hline \end{array}$$

๒. 
$$\begin{array}{r} 840 \\ - 400 \\ \hline \hline \end{array}$$

๗. 
$$\begin{array}{r} 2350 \\ - 100 \\ \hline \hline \end{array}$$

๓. 
$$\begin{array}{r} 320 \\ - 100 \\ \hline \hline \end{array}$$

๘. 
$$\begin{array}{r} 2843 \\ - 2000 \\ \hline \hline \end{array}$$

๔. 
$$\begin{array}{r} 350 \\ - 200 \\ \hline \hline \end{array}$$

๙. 
$$\begin{array}{r} 5300 \\ - 4000 \\ \hline \hline \end{array}$$

๕. 
$$\begin{array}{r} 2654 \\ - 230 \\ \hline \hline \end{array}$$

๑๐. 
$$\begin{array}{r} 3000 \\ - 1000 \\ \hline \hline \end{array}$$

การลบจำนวนสองจำนวน  
(ไม่มีการกระจาย)

ชุดที่ ๒

เวลา.....ถึง.....วันที่...../...../.....

จงหาผลลบ

10

๑. 
$$\begin{array}{r} 450 \\ - 320 \\ \hline \hline \end{array}$$

๒. 
$$\begin{array}{r} 6500 \\ - 400 \\ \hline \hline \end{array}$$

๓. 
$$\begin{array}{r} 750 \\ - 600 \\ \hline \hline \end{array}$$

๔. 
$$\begin{array}{r} 6850 \\ - 700 \\ \hline \hline \end{array}$$

๕. 
$$\begin{array}{r} 740 \\ - 400 \\ \hline \hline \end{array}$$

๖. 
$$\begin{array}{r} 5765 \\ - 1000 \\ \hline \hline \end{array}$$

๗. 
$$\begin{array}{r} 650 \\ - 500 \\ \hline \hline \end{array}$$

๘. 
$$\begin{array}{r} 3700 \\ - 2000 \\ \hline \hline \end{array}$$

๙. 
$$\begin{array}{r} 5748 \\ - 340 \\ \hline \hline \end{array}$$

๑๐. 
$$\begin{array}{r} 4000 \\ - 2000 \\ \hline \hline \end{array}$$



การลบจำนวนสองจำนวน  
(ไม่มีการกระจาย)

ชุดที่ ๓

เวลา.....ถึง.....วันที่...../...../.....

จงหาผลลบ

10

๑.            5 6 0  
              3 4 0  $\overline{)$   
                          
                        

๖.            6 4 0 0  
              3 0 0  $\overline{)$   
                          
                        

๒.            3 5 0  
              1 0 0  $\overline{)$   
                          
                        

๗.            3 4 3 0  
              2 0 0  $\overline{)$   
                          
                        

๓.            6 7 0  
              3 0 0  $\overline{)$   
                          
                        

๘.            6 5 3 4  
              5 0 0 0  $\overline{)$   
                          
                        

๔.            7 0 0  
              4 0 0  $\overline{)$   
                          
                        

๙.            4 3 0 0  
              2 0 0 0  $\overline{)$   
                          
                        

๑๑.          4 8 3 6  
              6 2 0  $\overline{)$   
                          
                        

๑๐.          9 0 0 0  
              7 0 0 0  $\overline{)$

การลบจำนวนสองจำนวน  
(ไม่มีการกระจาย)

ชุดที่ ๔

เวลา.....ถึง.....วันที่...../...../.....

จงหาผลลบ

10

๑. 
$$\begin{array}{r} 670 \\ - 430 \\ \hline \hline \end{array}$$

๖. 
$$\begin{array}{r} 7800 \\ - 500 \\ \hline \hline \end{array}$$

๒. 
$$\begin{array}{r} 570 \\ - 220 \\ \hline \hline \end{array}$$

๗. 
$$\begin{array}{r} 6650 \\ - 400 \\ \hline \hline \end{array}$$

๓. 
$$\begin{array}{r} 670 \\ - 170 \\ \hline \hline \end{array}$$

๘. 
$$\begin{array}{r} 5673 \\ - 4000 \\ \hline \hline \end{array}$$

๔. 
$$\begin{array}{r} 780 \\ - 500 \\ \hline \hline \end{array}$$

๙. 
$$\begin{array}{r} 5400 \\ - 2000 \\ \hline \hline \end{array}$$

๕. 
$$\begin{array}{r} 8567 \\ - 530 \\ \hline \hline \end{array}$$

๑๐. 
$$\begin{array}{r} 9000 \\ - 5000 \\ \hline \hline \end{array}$$



การลบจำนวนสองจำนวน  
(ไม่มีการกระจาย)

ชุดที่ ๕

เวลา.....ถึง.....วันที่...../...../.....

จงหาผลลบ

10

๑.            7 5 0  
              5 4 0  $\overline{)$

๖.            4 3 0 0  
              1 0 0  $\overline{)$

๒.            8 6 0  
              4 0 0  $\overline{)$

๗.            5 4 8 0  
              2 0 0  $\overline{)$

๓.            3 6 0  
              2 5 0  $\overline{)$

๘.            6 7 5 4  
              5 0 0 0  $\overline{)$

๔.            6 7 0  
              4 0 0  $\overline{)$

๙.            8 7 0 0  
              6 0 0 0  $\overline{)$

๑๑.          9 7 6 8  
              6 5 0  $\overline{)$

๑๐.          7 0 0 0  
              2 0 0 0  $\overline{)$

การลบจำนวนสองจำนวน  
(ไม่มีการกระจาย)

ชุดที่ ๖

เวลา.....ถึง.....วันที่...../...../.....

จงหาผลลบ

10

๑. 
$$\begin{array}{r} 860 \\ - 530 \\ \hline \hline \end{array}$$

๖. 
$$\begin{array}{r} 5600 \\ - 200 \\ \hline \hline \end{array}$$

๒. 
$$\begin{array}{r} 970 \\ - 750 \\ \hline \hline \end{array}$$

๗. 
$$\begin{array}{r} 4340 \\ - 300 \\ \hline \hline \end{array}$$

๓. 
$$\begin{array}{r} 760 \\ - 600 \\ \hline \hline \end{array}$$

๘. 
$$\begin{array}{r} 5473 \\ - 4000 \\ \hline \hline \end{array}$$

๔. 
$$\begin{array}{r} 840 \\ - 400 \\ \hline \hline \end{array}$$

๙. 
$$\begin{array}{r} 9700 \\ - 6000 \\ \hline \hline \end{array}$$

๕. 
$$\begin{array}{r} 5867 \\ - 440 \\ \hline \hline \end{array}$$

๑๐. 
$$\begin{array}{r} 5000 \\ - 3000 \\ \hline \hline \end{array}$$



การลบจำนวนสองจำนวน  
(ไม่มีการกระจาย)

ชุดที่ ๗

เวลา.....ถึง.....วันที่...../...../.....

จงหาผลลบ

10

๑.            9 5 0  
              6 1 0 <sup>-</sup>  
                          
                        

๖.            5 6 0 0  
              2 0 0 <sup>-</sup>  
                          
                        

๒.            6 5 0  
              4 3 0 <sup>-</sup>  
                          
                        

๗.            5 4 8 0  
              3 0 0 <sup>-</sup>  
                          
                        

๓.            5 4 0  
              3 0 0 <sup>-</sup>  
                          
                        

๘.            8 5 3 8  
              7 0 0 0 <sup>-</sup>  
                          
                        

๔.            7 5 0  
              5 0 0 <sup>-</sup>  
                          
                        

๙.            6 8 0 0  
              5 0 0 0 <sup>-</sup>  
                          
                        

๑๑.          4 6 8 5  
              3 3 0 <sup>-</sup>  
                          
                        

๑๐.          7 0 0 0  
              4 0 0 0 <sup>-</sup>

การลบจำนวนสองจำนวน  
(ไม่มีการกระจาย)

ชุดที่ ๘

เวลา.....ถึง.....วันที่...../...../.....

จงหาผลลบ

10

๑. 
$$\begin{array}{r} 478 \\ - 460 \\ \hline \end{array}$$

๖. 
$$\begin{array}{r} 9690 \\ - 420 \\ \hline \end{array}$$

๒. 
$$\begin{array}{r} 840 \\ - 500 \\ \hline \end{array}$$

๗. 
$$\begin{array}{r} 7854 \\ - 600 \\ \hline \end{array}$$

๓. 
$$\begin{array}{r} 660 \\ - 330 \\ \hline \end{array}$$

๘. 
$$\begin{array}{r} 6547 \\ - 4000 \\ \hline \end{array}$$

๔. 
$$\begin{array}{r} 426 \\ - 213 \\ \hline \end{array}$$

๙. 
$$\begin{array}{r} 8600 \\ - 4000 \\ \hline \end{array}$$

๕. 
$$\begin{array}{r} 6540 \\ - 320 \\ \hline \end{array}$$

๑๐. 
$$\begin{array}{r} 8000 \\ - 5000 \\ \hline \end{array}$$





การลบจำนวนสองจำนวน  
(ไม่มีการกระจาย)

ชุดที่ ๙

เวลา.....ถึง.....วันที่...../...../.....

จงหาคำตอบ

10

๑. 
$$\begin{array}{r} 759 \\ - 436 \\ \hline \hline \end{array}$$

๖. 
$$\begin{array}{r} 8700 \\ - 100 \\ \hline \hline \end{array}$$

๒. 
$$\begin{array}{r} 763 \\ - 543 \\ \hline \hline \end{array}$$

๗. 
$$\begin{array}{r} 4635 \\ - 200 \\ \hline \hline \end{array}$$

๓. 
$$\begin{array}{r} 874 \\ - 620 \\ \hline \hline \end{array}$$

๘. 
$$\begin{array}{r} 9456 \\ - 3000 \\ \hline \hline \end{array}$$

๔. 
$$\begin{array}{r} 589 \\ - 467 \\ \hline \hline \end{array}$$

๙. 
$$\begin{array}{r} 8700 \\ - 1000 \\ \hline \hline \end{array}$$

๕. 
$$\begin{array}{r} 8764 \\ - 530 \\ \hline \hline \end{array}$$

๑๐. 
$$\begin{array}{r} 6000 \\ - 2000 \\ \hline \hline \end{array}$$

การลบจำนวนสองจำนวน  
(ไม่มีการกระจาย)

ชุดที่ ๑๐

เวลา.....ถึง.....วันที่...../...../.....

จงหาผลลบ

10

๑. 
$$\begin{array}{r} 878 \\ - 754 \\ \hline \hline \end{array}$$

๖. 
$$\begin{array}{r} 9800 \\ - 500 \\ \hline \hline \end{array}$$

๒. 
$$\begin{array}{r} 780 \\ - 450 \\ \hline \hline \end{array}$$

๗. 
$$\begin{array}{r} 9746 \\ - 700 \\ \hline \hline \end{array}$$

๓. 
$$\begin{array}{r} 956 \\ - 730 \\ \hline \hline \end{array}$$

๘. 
$$\begin{array}{r} 6765 \\ - 2000 \\ \hline \hline \end{array}$$

๔. 
$$\begin{array}{r} 765 \\ - 143 \\ \hline \hline \end{array}$$

๙. 
$$\begin{array}{r} 9600 \\ - 8000 \\ \hline \hline \end{array}$$

๕. 
$$\begin{array}{r} 6758 \\ - 500 \\ \hline \hline \end{array}$$

๑๐. 
$$\begin{array}{r} 9000 \\ - 4000 \\ \hline \hline \end{array}$$

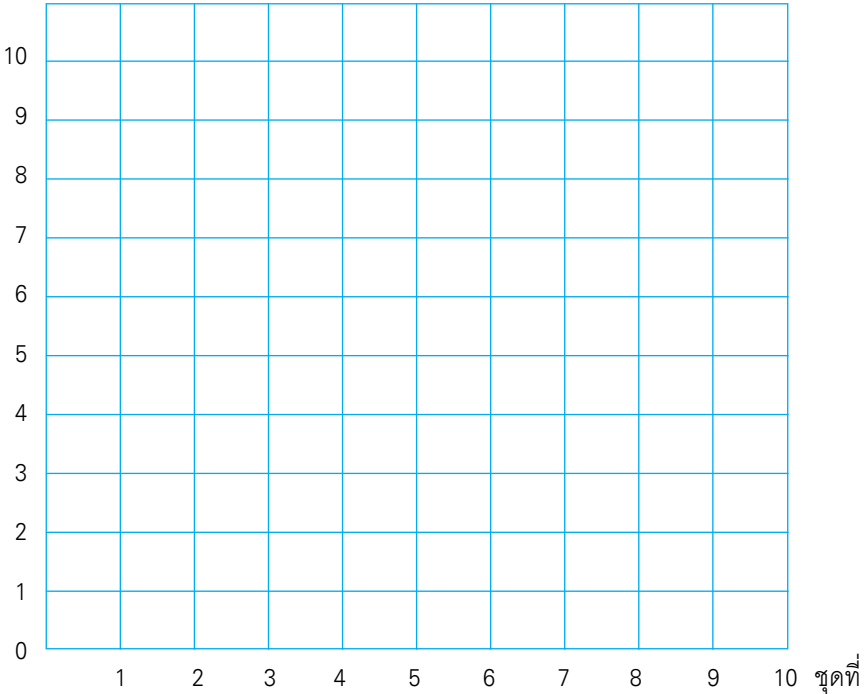
## แบบบันทึกความก้าวหน้า

แบบฝึกเพื่อพัฒนาทักษะการคิดเลขเร็ว

ชั้นประถมศึกษาปีที่ ๓ เล่มที่ ๔

เรื่อง การลบจำนวนสองจำนวน (ไม่มีการกระจาย)

จำนวนข้อที่ทำถูก (คะแนน)



การลบจำนวนสองจำนวน  
(มีการกระจายหนึ่งหลัก)

ชุดที่ ๑

เวลา.....ถึง.....วันที่...../...../.....

จงหาผลลบ

10

๑. 
$$\begin{array}{r} 420 \\ - 140 \\ \hline \hline \end{array}$$

๖. 
$$\begin{array}{r} 2240 \\ - 510 \\ \hline \hline \end{array}$$

๒. 
$$\begin{array}{r} 310 \\ - 140 \\ \hline \hline \end{array}$$

๗. 
$$\begin{array}{r} 2480 \\ - 530 \\ \hline \hline \end{array}$$

๓. 
$$\begin{array}{r} 240 \\ - 150 \\ \hline \hline \end{array}$$

๘. 
$$\begin{array}{r} 2810 \\ - 1720 \\ \hline \hline \end{array}$$

๔. 
$$\begin{array}{r} 510 \\ - 320 \\ \hline \hline \end{array}$$

๙. 
$$\begin{array}{r} 4108 \\ - 2302 \\ \hline \hline \end{array}$$

๕. 
$$\begin{array}{r} 1650 \\ - 370 \\ \hline \hline \end{array}$$

๑๐. 
$$\begin{array}{r} 4561 \\ - 2710 \\ \hline \hline \end{array}$$

การลบจำนวนสองจำนวน  
(มีการกระจายหนึ่งหลัก)

## ชุดที่ ๒

เวลา.....ถึง.....วันที่...../...../.....

จงหาผลลบ

10

$$\begin{array}{r} ๑. \quad 500 \\ - 220 \\ \hline \hline \end{array}$$

$$\begin{array}{r} ๖. \quad 3650 \\ - 920 \\ \hline \hline \end{array}$$

$$\begin{array}{r} ๒. \quad 450 \\ - 380 \\ \hline \hline \end{array}$$

$$\begin{array}{r} ๗. \quad 3470 \\ - 670 \\ \hline \hline \end{array}$$

$$\begin{array}{r} ๓. \quad 270 \\ - 180 \\ \hline \hline \end{array}$$

$$\begin{array}{r} ๘. \quad 3260 \\ - 2360 \\ \hline \hline \end{array}$$

$$\begin{array}{r} ๔. \quad 830 \\ - 450 \\ \hline \hline \end{array}$$

$$\begin{array}{r} ๙. \quad 5230 \\ - 4300 \\ \hline \hline \end{array}$$

$$\begin{array}{r} ๑๐. \quad 2210 \\ - 190 \\ \hline \hline \end{array}$$

$$\begin{array}{r} ๑๐. \quad 2160 \\ - 1300 \\ \hline \hline \end{array}$$

การลบจำนวนสองจำนวน  
(มีการกระจายหนึ่งหลัก)

ชุดที่ ๓

เวลา.....ถึง.....วันที่...../...../.....

จงหาผลลบ

10

๑. 
$$\begin{array}{r} 330 \\ - 150 \\ \hline \end{array}$$

๖. 
$$\begin{array}{r} 7138 \\ - 407 \\ \hline \end{array}$$

๒. 
$$\begin{array}{r} 380 \\ - 290 \\ \hline \end{array}$$

๗. 
$$\begin{array}{r} 4670 \\ - 850 \\ \hline \end{array}$$

๓. 
$$\begin{array}{r} 360 \\ - 180 \\ \hline \end{array}$$

๘. 
$$\begin{array}{r} 4230 \\ - 1510 \\ \hline \end{array}$$

๔. 
$$\begin{array}{r} 920 \\ - 770 \\ \hline \end{array}$$

๙. 
$$\begin{array}{r} 3540 \\ - 1840 \\ \hline \end{array}$$

๕. 
$$\begin{array}{r} 3840 \\ - 670 \\ \hline \end{array}$$

๑๐. 
$$\begin{array}{r} 9275 \\ - 8540 \\ \hline \end{array}$$

การลบจำนวนสองจำนวน  
(มีการกระจายหนึ่งหลัก)

## ชุดที่ ๔

เวลา.....ถึง.....วันที่...../...../.....

จงหาผลลบ

10

$$\begin{array}{r} ๑. \quad 410 \\ - 130 \\ \hline \hline \end{array}$$

$$\begin{array}{r} ๖. \quad 3660 \\ - 710 \\ \hline \hline \end{array}$$

$$\begin{array}{r} ๒. \quad 520 \\ - 350 \\ \hline \hline \end{array}$$

$$\begin{array}{r} ๗. \quad 3750 \\ - 920 \\ \hline \hline \end{array}$$

$$\begin{array}{r} ๓. \quad 240 \\ - 180 \\ \hline \hline \end{array}$$

$$\begin{array}{r} ๘. \quad 5420 \\ - 2820 \\ \hline \hline \end{array}$$

$$\begin{array}{r} ๔. \quad 740 \\ - 150 \\ \hline \hline \end{array}$$

$$\begin{array}{r} ๙. \quad 4360 \\ - 1950 \\ \hline \hline \end{array}$$

$$\begin{array}{r} ๕. \quad 4650 \\ - 260 \\ \hline \hline \end{array}$$

$$\begin{array}{r} ๑๐. \quad 3420 \\ - 1820 \\ \hline \hline \end{array}$$

การลบจำนวนสองจำนวน  
(มีการกระจายหนึ่งหลัก)

ชุดที่ ๕

เวลา.....ถึง.....วันที่...../...../.....

จงหาผลลบ

10

๑. 
$$\begin{array}{r} 540 \\ - 370 \\ \hline \hline \end{array}$$

๖. 
$$\begin{array}{r} 7640 \\ - 900 \\ \hline \hline \end{array}$$

๒. 
$$\begin{array}{r} 620 \\ - 370 \\ \hline \hline \end{array}$$

๗. 
$$\begin{array}{r} 4430 \\ - 720 \\ \hline \hline \end{array}$$

๓. 
$$\begin{array}{r} 330 \\ - 180 \\ \hline \hline \end{array}$$

๘. 
$$\begin{array}{r} 6340 \\ - 3530 \\ \hline \hline \end{array}$$

๔. 
$$\begin{array}{r} 570 \\ - 280 \\ \hline \hline \end{array}$$

๙. 
$$\begin{array}{r} 5170 \\ - 4600 \\ \hline \hline \end{array}$$

๕. 
$$\begin{array}{r} 3760 \\ - 390 \\ \hline \hline \end{array}$$

๑๐. 
$$\begin{array}{r} 3580 \\ - 2930 \\ \hline \hline \end{array}$$



การลบจำนวนสองจำนวน  
(มีการกระจายหนึ่งหลัก)

## ชุดที่ ๖

เวลา.....ถึง.....วันที่...../...../.....

จงหาผลลบ

10

$$\begin{array}{r} ๑. \quad 560 \\ - 280 \\ \hline \hline \end{array}$$

$$\begin{array}{r} ๖. \quad 8270 \\ - 860 \\ \hline \hline \end{array}$$

$$\begin{array}{r} ๒. \quad 430 \\ - 160 \\ \hline \hline \end{array}$$

$$\begin{array}{r} ๗. \quad 8420 \\ - 720 \\ \hline \hline \end{array}$$

$$\begin{array}{r} ๓. \quad 240 \\ - 150 \\ \hline \hline \end{array}$$

$$\begin{array}{r} ๘. \quad 6350 \\ - 4820 \\ \hline \hline \end{array}$$

$$\begin{array}{r} ๔. \quad 630 \\ - 440 \\ \hline \hline \end{array}$$

$$\begin{array}{r} ๙. \quad 8360 \\ - 7500 \\ \hline \hline \end{array}$$

$$\begin{array}{r} ๑๐. \quad 1560 \\ - 380 \\ \hline \hline \end{array}$$

$$\begin{array}{r} ๑๑. \quad 9160 \\ - 8740 \\ \hline \hline \end{array}$$

การลบจำนวนสองจำนวน  
(มีการกระจายหนึ่งหลัก)

ชุดที่ ๗

เวลา.....ถึง.....วันที่...../...../.....

จงหาผลลบ

10

๑. 
$$\begin{array}{r} 630 \\ - 260 \\ \hline \hline \end{array}$$

๖. 
$$\begin{array}{r} 3590 \\ - 700 \\ \hline \hline \end{array}$$

๒. 
$$\begin{array}{r} 560 \\ - 380 \\ \hline \hline \end{array}$$

๗. 
$$\begin{array}{r} 2720 \\ - 820 \\ \hline \hline \end{array}$$

๓. 
$$\begin{array}{r} 730 \\ - 150 \\ \hline \hline \end{array}$$

๘. 
$$\begin{array}{r} 6420 \\ - 4820 \\ \hline \hline \end{array}$$

๔. 
$$\begin{array}{r} 650 \\ - 460 \\ \hline \hline \end{array}$$

๙. 
$$\begin{array}{r} 5470 \\ - 2500 \\ \hline \hline \end{array}$$

๕. 
$$\begin{array}{r} 6880 \\ - 590 \\ \hline \hline \end{array}$$

๑๐. 
$$\begin{array}{r} 9420 \\ - 6620 \\ \hline \hline \end{array}$$

การลบจำนวนสองจำนวน  
(มีการกระจายหนึ่งหลัก)

## ชุดที่ ๘

เวลา.....ถึง.....วันที่...../...../.....

จงหาผลลบ

10

$$\begin{array}{r} ๑. \quad 720 \\ - 670 \\ \hline \hline \end{array}$$

$$\begin{array}{r} ๖. \quad 4350 \\ - 820 \\ \hline \hline \end{array}$$

$$\begin{array}{r} ๒. \quad 730 \\ - 490 \\ \hline \hline \end{array}$$

$$\begin{array}{r} ๗. \quad 2560 \\ - 730 \\ \hline \hline \end{array}$$

$$\begin{array}{r} ๓. \quad 700 \\ - 110 \\ \hline \hline \end{array}$$

$$\begin{array}{r} ๘. \quad 6270 \\ - 4620 \\ \hline \hline \end{array}$$

$$\begin{array}{r} ๔. \quad 800 \\ - 680 \\ \hline \hline \end{array}$$

$$\begin{array}{r} ๙. \quad 7320 \\ - 2600 \\ \hline \hline \end{array}$$

$$\begin{array}{r} ๑๐. \quad 7320 \\ - 180 \\ \hline \hline \end{array}$$

$$\begin{array}{r} ๑๐. \quad 6390 \\ - 3730 \\ \hline \hline \end{array}$$

การลบจำนวนสองจำนวน  
(มีการกระจายหนึ่งหลัก)

ชุดที่ ๙

เวลา.....ถึง.....วันที่...../...../.....

จงหาผลลบ

10

๑. 
$$\begin{array}{r} 810 \\ - 420 \\ \hline \hline \end{array}$$

๖. 
$$\begin{array}{r} 4270 \\ - 820 \\ \hline \hline \end{array}$$

๒. 
$$\begin{array}{r} 820 \\ - 330 \\ \hline \hline \end{array}$$

๗. 
$$\begin{array}{r} 2420 \\ - 710 \\ \hline \hline \end{array}$$

๓. 
$$\begin{array}{r} 630 \\ - 280 \\ \hline \hline \end{array}$$

๘. 
$$\begin{array}{r} 6340 \\ - 2730 \\ \hline \hline \end{array}$$

๔. 
$$\begin{array}{r} 930 \\ - 890 \\ \hline \hline \end{array}$$

๙. 
$$\begin{array}{r} 5430 \\ - 3700 \\ \hline \hline \end{array}$$

๕. 
$$\begin{array}{r} 8540 \\ - 260 \\ \hline \hline \end{array}$$

๑๐. 
$$\begin{array}{r} 6240 \\ - 5840 \\ \hline \hline \end{array}$$

การลบจำนวนสองจำนวน  
(มีการกระจายหนึ่งหลัก)

## ชุดที่ ๑๐

เวลา.....ถึง.....วันที่...../...../.....

จงหาผลลบ

10

$$\begin{array}{r} ๑. \quad 940 \\ - 880 \\ \hline \hline \end{array}$$

$$\begin{array}{r} ๖. \quad 3290 \\ - 610 \\ \hline \hline \end{array}$$

$$\begin{array}{r} ๒. \quad 750 \\ - 380 \\ \hline \hline \end{array}$$

$$\begin{array}{r} ๗. \quad 5130 \\ - 920 \\ \hline \hline \end{array}$$

$$\begin{array}{r} ๓. \quad 680 \\ - 590 \\ \hline \hline \end{array}$$

$$\begin{array}{r} ๘. \quad 7320 \\ - 4510 \\ \hline \hline \end{array}$$

$$\begin{array}{r} ๔. \quad 680 \\ - 490 \\ \hline \hline \end{array}$$

$$\begin{array}{r} ๙. \quad 6360 \\ - 5500 \\ \hline \hline \end{array}$$

$$\begin{array}{r} ๑๐. \quad 2930 \\ - 170 \\ \hline \hline \end{array}$$

$$\begin{array}{r} ๑๐. \quad 8140 \\ - 3220 \\ \hline \hline \end{array}$$

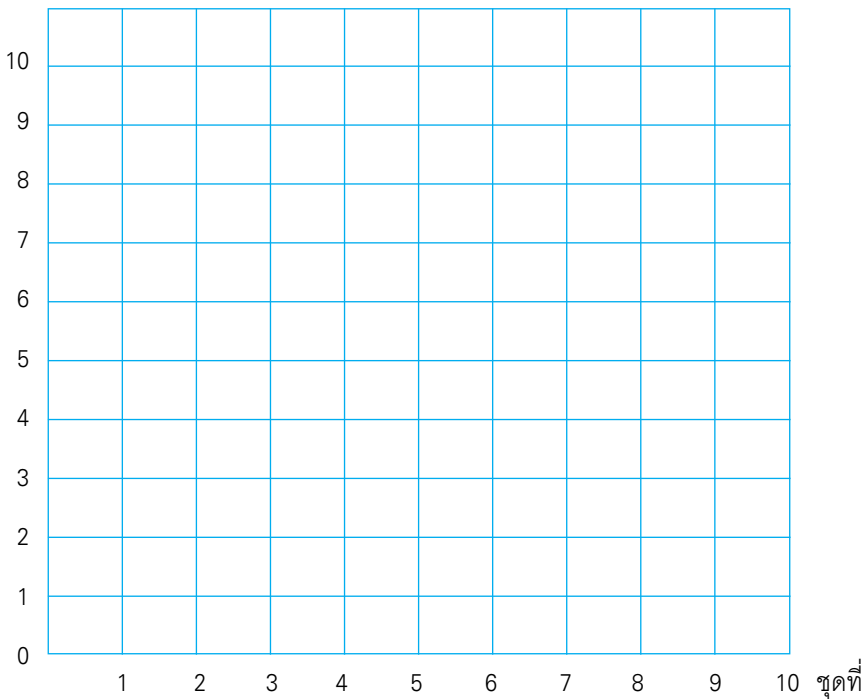
## แบบบันทึกความก้าวหน้า

แบบฝึกเพื่อพัฒนาทักษะการคิดเลขเร็ว

ชั้นประถมศึกษาปีที่ ๓ เล่มที่ ๔

เรื่อง การลบจำนวนสองจำนวน (มีการกระจายหนึ่งหลัก)

จำนวนข้อที่ทำถูก (คะแนน)



การลบจำนวนสองจำนวน  
(มีการกระจายสองหลัก)

## ชุดที่ ๑

เวลา.....ถึง.....วันที่...../...../.....

จงหาผลลบ

10

$$\begin{array}{r} ๑. \quad 410 \\ - 242 \\ \hline \hline \end{array}$$

$$\begin{array}{r} ๖. \quad 2500 \\ - 650 \\ \hline \hline \end{array}$$

$$\begin{array}{r} ๒. \quad 240 \\ - 152 \\ \hline \hline \end{array}$$

$$\begin{array}{r} ๗. \quad 4100 \\ - 340 \\ \hline \hline \end{array}$$

$$\begin{array}{r} ๓. \quad 910 \\ - 389 \\ \hline \hline \end{array}$$

$$\begin{array}{r} ๘. \quad 5300 \\ - 1530 \\ \hline \hline \end{array}$$

$$\begin{array}{r} ๔. \quad 970 \\ - 581 \\ \hline \hline \end{array}$$

$$\begin{array}{r} ๙. \quad 3210 \\ - 1730 \\ \hline \hline \end{array}$$

$$\begin{array}{r} ๑๐. \quad 2510 \\ - 398 \\ \hline \hline \end{array}$$

$$\begin{array}{r} ๑๑. \quad 9760 \\ - 4890 \\ \hline \hline \end{array}$$

การลบจำนวนสองจำนวน  
(มีการกระจายสองหลัก)

ชุดที่ ๒

เวลา.....ถึง.....วันที่...../...../.....

จงหาผลลบ

10

๑. 
$$\begin{array}{r} 620 \\ - 378 \\ \hline \hline \end{array}$$

๖. 
$$\begin{array}{r} 2800 \\ - 930 \\ \hline \hline \end{array}$$

๒. 
$$\begin{array}{r} 410 \\ - 282 \\ \hline \hline \end{array}$$

๗. 
$$\begin{array}{r} 2100 \\ - 210 \\ \hline \hline \end{array}$$

๓. 
$$\begin{array}{r} 980 \\ - 193 \\ \hline \hline \end{array}$$

๘. 
$$\begin{array}{r} 6200 \\ - 2440 \\ \hline \hline \end{array}$$

๔. 
$$\begin{array}{r} 350 \\ - 173 \\ \hline \hline \end{array}$$

๙. 
$$\begin{array}{r} 7300 \\ - 3650 \\ \hline \hline \end{array}$$

๕. 
$$\begin{array}{r} 2520 \\ - 253 \\ \hline \hline \end{array}$$

๑๐. 
$$\begin{array}{r} 8300 \\ - 7960 \\ \hline \hline \end{array}$$



การลบจำนวนสองจำนวน  
(มีการกระจายสองหลัก)

## ชุดที่ ๓

เวลา.....ถึง.....วันที่...../...../.....

จงหาผลลบ

10

$$\begin{array}{r} ๑. \quad 310 \\ - 131 \\ \hline \hline \end{array}$$

$$\begin{array}{r} ๖. \quad 3620 \\ - 860 \\ \hline \hline \end{array}$$

$$\begin{array}{r} ๒. \quad 640 \\ - 466 \\ \hline \hline \end{array}$$

$$\begin{array}{r} ๗. \quad 6530 \\ - 650 \\ \hline \hline \end{array}$$

$$\begin{array}{r} ๓. \quad 863 \\ - 388 \\ \hline \hline \end{array}$$

$$\begin{array}{r} ๘. \quad 3240 \\ - 2960 \\ \hline \hline \end{array}$$

$$\begin{array}{r} ๔. \quad 564 \\ - 295 \\ \hline \hline \end{array}$$

$$\begin{array}{r} ๙. \quad 6850 \\ - 3980 \\ \hline \hline \end{array}$$

$$\begin{array}{r} ๑๐. \quad 3710 \\ - 377 \\ \hline \hline \end{array}$$

$$\begin{array}{r} ๑๐. \quad 8740 \\ - 4860 \\ \hline \hline \end{array}$$

การลบจำนวนสองจำนวน  
(มีการกระจายสองหลัก)

ชุดที่ ๔

เวลา.....ถึง.....วันที่...../...../.....

จงหาผลลบ

10

๑. 
$$\begin{array}{r} 820 \\ - 546 \\ \hline \hline \end{array}$$

๖. 
$$\begin{array}{r} 4110 \\ - 320 \\ \hline \hline \end{array}$$

๒. 
$$\begin{array}{r} 870 \\ - 385 \\ \hline \hline \end{array}$$

๗. 
$$\begin{array}{r} 4740 \\ - 870 \\ \hline \hline \end{array}$$

๓. 
$$\begin{array}{r} 720 \\ - 377 \\ \hline \hline \end{array}$$

๘. 
$$\begin{array}{r} 3400 \\ - 1770 \\ \hline \hline \end{array}$$

๔. 
$$\begin{array}{r} 240 \\ - 181 \\ \hline \hline \end{array}$$

๙. 
$$\begin{array}{r} 6400 \\ - 4780 \\ \hline \hline \end{array}$$

๕. 
$$\begin{array}{r} 2950 \\ - 592 \\ \hline \hline \end{array}$$

๑๐. 
$$\begin{array}{r} 5310 \\ - 3670 \\ \hline \hline \end{array}$$

การลบจำนวนสองจำนวน  
(มีการกระจายสองหลัก)

## ชุดที่ ๕

เวลา.....ถึง.....วันที่...../...../.....

จงหาผลลบ

10

$$\begin{array}{r} ๑. \quad 760 \\ - 475 \\ \hline \hline \end{array}$$

$$\begin{array}{r} ๖. \quad 4220 \\ - 540 \\ \hline \hline \end{array}$$

$$\begin{array}{r} ๒. \quad 310 \\ - 213 \\ \hline \hline \end{array}$$

$$\begin{array}{r} ๗. \quad 5450 \\ - 860 \\ \hline \hline \end{array}$$

$$\begin{array}{r} ๓. \quad 940 \\ - 672 \\ \hline \hline \end{array}$$

$$\begin{array}{r} ๘. \quad 4620 \\ - 2940 \\ \hline \hline \end{array}$$

$$\begin{array}{r} ๔. \quad 860 \\ - 492 \\ \hline \hline \end{array}$$

$$\begin{array}{r} ๙. \quad 9530 \\ - 5850 \\ \hline \hline \end{array}$$

$$\begin{array}{r} ๑๐. \quad 2940 \\ - 284 \\ \hline \hline \end{array}$$

$$\begin{array}{r} ๑๐. \quad 5240 \\ - 2450 \\ \hline \hline \end{array}$$

การลบจำนวนสองจำนวน  
(มีการกระจายสองหลัก)

ชุดที่ ๖

เวลา.....ถึง.....วันที่...../...../.....

จงหาผลลบ

10

๑. 
$$\begin{array}{r} 630 \\ - 366 \\ \hline \hline \end{array}$$

๖. 
$$\begin{array}{r} 5310 \\ - 780 \\ \hline \hline \end{array}$$

๒. 
$$\begin{array}{r} 540 \\ - 353 \\ \hline \hline \end{array}$$

๗. 
$$\begin{array}{r} 6550 \\ - 960 \\ \hline \hline \end{array}$$

๓. 
$$\begin{array}{r} 520 \\ - 241 \\ \hline \hline \end{array}$$

๘. 
$$\begin{array}{r} 5380 \\ - 3590 \\ \hline \hline \end{array}$$

๔. 
$$\begin{array}{r} 750 \\ - 364 \\ \hline \hline \end{array}$$

๙. 
$$\begin{array}{r} 2120 \\ - 1350 \\ \hline \hline \end{array}$$

๕. 
$$\begin{array}{r} 2660 \\ - 276 \\ \hline \hline \end{array}$$

๑๐. 
$$\begin{array}{r} 8140 \\ - 4870 \\ \hline \hline \end{array}$$

การลบจำนวนสองจำนวน  
(มีการกระจายสองหลัก)

## ชุดที่ ๗

เวลา.....ถึง.....วันที่...../...../.....

จงหาผลลบ

10

$$\begin{array}{r} ๑. \quad 940 \\ - 497 \\ \hline \hline \end{array}$$

$$\begin{array}{r} ๖. \quad 6700 \\ - 990 \\ \hline \hline \end{array}$$

$$\begin{array}{r} ๒. \quad 550 \\ - 275 \\ \hline \hline \end{array}$$

$$\begin{array}{r} ๗. \quad 7780 \\ - 890 \\ \hline \hline \end{array}$$

$$\begin{array}{r} ๓. \quad 820 \\ - 147 \\ \hline \hline \end{array}$$

$$\begin{array}{r} ๘. \quad 6700 \\ - 4980 \\ \hline \hline \end{array}$$

$$\begin{array}{r} ๔. \quad 720 \\ - 552 \\ \hline \hline \end{array}$$

$$\begin{array}{r} ๙. \quad 4430 \\ - 3840 \\ \hline \hline \end{array}$$

$$\begin{array}{r} ๑๐. \quad 1840 \\ - 484 \\ \hline \hline \end{array}$$

$$\begin{array}{r} ๑๑. \quad 6530 \\ - 3670 \\ \hline \hline \end{array}$$

การลบจำนวนสองจำนวน  
(มีการกระจายสองหลัก)

ชุดที่ ๘

เวลา.....ถึง.....วันที่...../...../.....

จงหาผลลบ

10

๑. 
$$\begin{array}{r} 910 \\ - 835 \\ \hline \hline \end{array}$$

๖. 
$$\begin{array}{r} 7410 \\ - 640 \\ \hline \hline \end{array}$$

๒. 
$$\begin{array}{r} 760 \\ - 689 \\ \hline \hline \end{array}$$

๗. 
$$\begin{array}{r} 8720 \\ - 870 \\ \hline \hline \end{array}$$

๓. 
$$\begin{array}{r} 830 \\ - 493 \\ \hline \hline \end{array}$$

๘. 
$$\begin{array}{r} 7220 \\ - 6760 \\ \hline \hline \end{array}$$

๔. 
$$\begin{array}{r} 520 \\ - 362 \\ \hline \hline \end{array}$$

๙. 
$$\begin{array}{r} 7560 \\ - 6790 \\ \hline \hline \end{array}$$

๕. 
$$\begin{array}{r} 5730 \\ - 451 \\ \hline \hline \end{array}$$

๑๐. 
$$\begin{array}{r} 6370 \\ - 3780 \\ \hline \hline \end{array}$$

การลบจำนวนสองจำนวน  
(มีการกระจายสองหลัก)

## ชุดที่ ๙

เวลา.....ถึง.....วันที่...../...../.....

จงหาผลลบ

10

$$\begin{array}{r} ๑. \quad 520 \\ - 295 \\ \hline \hline \end{array}$$

$$\begin{array}{r} ๖. \quad 8250 \\ - 780 \\ \hline \hline \end{array}$$

$$\begin{array}{r} ๒. \quad 920 \\ - 572 \\ \hline \hline \end{array}$$

$$\begin{array}{r} ๗. \quad 9120 \\ - 930 \\ \hline \hline \end{array}$$

$$\begin{array}{r} ๓. \quad 410 \\ - 164 \\ \hline \hline \end{array}$$

$$\begin{array}{r} ๘. \quad 8560 \\ - 4880 \\ \hline \hline \end{array}$$

$$\begin{array}{r} ๔. \quad 540 \\ - 361 \\ \hline \hline \end{array}$$

$$\begin{array}{r} ๙. \quad 7640 \\ - 3990 \\ \hline \hline \end{array}$$

$$\begin{array}{r} ๑๐. \quad 5420 \\ - 342 \\ \hline \hline \end{array}$$

$$\begin{array}{r} ๑๐. \quad 5210 \\ - 2820 \\ \hline \hline \end{array}$$

การลบจำนวนสองจำนวน  
(มีการกระจายสองหลัก)

ชุดที่ ๑๐

เวลา.....ถึง.....วันที่...../...../.....

จงหาผลลบ

10

๑. 
$$\begin{array}{r} 730 \\ - 355 \\ \hline \end{array}$$

๒. 
$$\begin{array}{r} 3740 \\ - 970 \\ \hline \end{array}$$

๒. 
$$\begin{array}{r} 950 \\ - 793 \\ \hline \end{array}$$

๓. 
$$\begin{array}{r} 6360 \\ - 890 \\ \hline \end{array}$$

๓. 
$$\begin{array}{r} 930 \\ - 651 \\ \hline \end{array}$$

๔. 
$$\begin{array}{r} 5140 \\ - 3450 \\ \hline \end{array}$$

๔. 
$$\begin{array}{r} 860 \\ - 594 \\ \hline \end{array}$$

๕. 
$$\begin{array}{r} 6250 \\ - 4970 \\ \hline \end{array}$$

๕. 
$$\begin{array}{r} 3730 \\ - 551 \\ \hline \end{array}$$

๑๐. 
$$\begin{array}{r} 4120 \\ - 1950 \\ \hline \end{array}$$



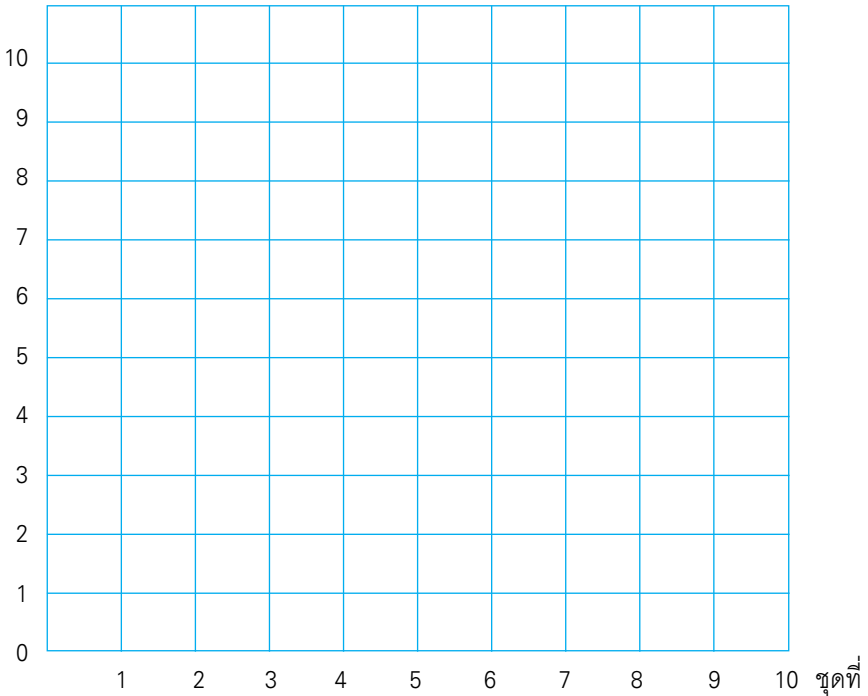
## แบบบันทึกความก้าวหน้า

แบบฝึกเพื่อพัฒนาทักษะการคิดเลขเร็ว

ชั้นประถมศึกษาปีที่ ๓ เล่มที่ ๔

เรื่อง การลบจำนวนสองจำนวน (มีการกระจายสองหลัก)

จำนวนข้อที่ทำถูก (คะแนน)



## คณะทำงาน

### ที่ปรึกษา

๑. คุณหญิงเกษมา วรวรรณ ณ อยุธยา  
เลขาธิการคณะกรรมการการศึกษาขั้นพื้นฐาน
๒. นายสมเกียรติ ชอบผล  
รองเลขาธิการคณะกรรมการการศึกษาขั้นพื้นฐาน
๓. นายวินัย รอดจ่าย  
รองเลขาธิการคณะกรรมการการศึกษาขั้นพื้นฐาน

### ผู้ทรงคุณวุฒิ

๑. นายสุชาติ วงศ์สุวรรณ  
ที่ปรึกษาด้านพัฒนากระบวนการเรียนรู้
๒. นางสาววันทยา วงศ์ศิลปภิรมย์  
ที่ปรึกษาด้านมาตรฐานการศึกษา
๓. นางเบญจลักษณ์ นำฟ้า  
ผู้อำนวยการสำนักวิชาการและมาตรฐานการศึกษา
๔. นางสาววีณา อัครธรรม  
ผู้เชี่ยวชาญด้านพัฒนานวัตกรรมการเรียนรู้
๕. รศ.ดร.จิราภรณ์ ศิริทวี  
โรงเรียนสาธิตแห่งมหาวิทยาลัยเกษตรศาสตร์  
ศูนย์วิจัยและพัฒนาการศึกษา

๖. รศ.ประพนธ์ จำยเจริญ  
โรงเรียนสาธิตมหาวิทยาลัยศรีนครินทรวิโรฒ ประสานมิตร  
ฝ่ายประถม
๗. รศ.พัชรี วรจรัสรังสี  
โรงเรียนสาธิตจุฬาลงกรณ์มหาวิทยาลัย  
ฝ่ายประถม
๘. นายปราโมทย์ ขจรภักย์  
ศึกษานิเทศก์  
สำนักงานเขตพื้นที่การศึกษารุงเทพมหานคร เขต ๑
๙. นายหฤษฎ์พันธ์ุ ปรัชพันธ์ุ  
บริษัท คุ่มอง (ไทยแลนด์) จำกัด
๑๐. นายนาวิ ยิ่งยืน  
ผู้อำนวยการโรงเรียนปทุมคงคา  
สำนักงานเขตพื้นที่การศึกษารุงเทพมหานคร เขต ๑
๑๑. นางสาวสุคนธา อรุณภู  
ผู้อำนวยการโรงเรียนมหาวิธานวัตร  
สำนักงานเขตพื้นที่การศึกษารุงเทพมหานคร เขต ๑

### ผู้รับผิดชอบโครงการ

กลุ่มพัฒนาระบบนกรเรียนรู้อำนาจวิชาการและมาตรฐานการศึกษา

๑. นางสาวกัญญิกา พรหมณพิทักษ์
๒. นางสาวศรินทร เศรษฐ์กรุณย์
๓. นางสาววรรณัน ชุนศรี
๔. นายสันติสุข สันติศาสนสุข
๕. นางผาณิต ทวีศักดิ์

๖. นางบุษริน ประเสริฐรัตน์
๗. นางสาวเปรมวดี ศรีธนพล
๘. นางสาวภัทรา สุวรรณบัตร
๙. นางสาวจัญญศรี แจบไธสง

### ผู้เขียน

๑. นางสาวจงกลณี จันทรัมย์  
ศึกษานิเทศก์  
สำนักงานเขตพื้นที่การศึกษายุทธยานี เขต ๑
๒. นายนิรันดร์ ตันชัยย์  
ครูโรงเรียนวัดหงส์รัตนาราม  
สำนักงานเขตพื้นที่การศึกษากทมมหานคร เขต ๓
๓. นางปัญญา นารถ กองแก้ว  
ครูโรงเรียนวัดชัยชนะสงคราม  
สำนักงานเขตพื้นที่การศึกษากทมมหานคร เขต ๑
๔. นางพยุศรี กระจ่างวงศ์  
ครูโรงเรียนวัดสว่างอารมณ์  
สำนักงานเขตพื้นที่การศึกษาพระนครศรีอยุธยา เขต ๑
๕. นางซูใจ บุญเล่า  
ครูโรงเรียนสุพรรณภูมิ  
สำนักงานเขตพื้นที่การศึกษาสุพรรณบุรี เขต ๑
๖. นางจินตนา ชุมโมกษ์  
ครูโรงเรียนวัดหนองคณที (พลาอนุกุล)  
สำนักงานเขตพื้นที่การศึกษาสระบุรี เขต ๑

๗. นางทัศนีย์ ศรีลาศักดิ์  
ครูโรงเรียนชุมชนโนนหอมไผ่ล้อม  
สำนักงานเขตพื้นที่การศึกษาศงขลา เขต ๑

### ผู้ปรับปรุงแบบฝึกครั้งที่ ๑

๑. นายสุรชัย วงษ์พัฒน์  
ศึกษานิเทศก์  
สำนักงานเขตพื้นที่การศึกษาศงขลา เขต ๓
๒. นางสาวจตุพร เสวตวงษ์  
ครูโรงเรียนมหาวิทยาลัยรัตนบุรี  
สำนักงานเขตพื้นที่การศึกษารวมวงษ์นคร เขต ๑
๓. นางสาววาณี คมขำ  
ครูโรงเรียนวัดชัยชนะสงคราม  
สำนักงานเขตพื้นที่การศึกษารวมวงษ์นคร เขต ๑
๔. นางอรุณิษา เอี่ยมรักษา  
ครูโรงเรียนวัดด่านสำโรง  
สำนักงานเขตพื้นที่การศึกษารวมวงษ์นคร เขต ๑
๕. นางปาริชาติ พรหมยาลี้  
ครูโรงเรียนบ้านยา  
สำนักงานเขตพื้นที่การศึกษาศงขลา เขต ๓
๖. นายเสรี ดั่งขุนทด  
ครูโรงเรียนวัดสว่างอารมณ์  
สำนักงานเขตพื้นที่การศึกษารวมวงษ์นคร เขต ๑

๗. นางสาวพร วงศ์กาฬสินธุ์  
ครูโรงเรียนอนุบาลสกลนคร  
สำนักงานเขตพื้นที่การศึกษาสกลนคร เขต ๑
๘. นางสาวภา รมราศรี  
ครูโรงเรียนชุมชนโนนหอมไผ่ล้อม  
สำนักงานเขตพื้นที่การศึกษาสกลนคร เขต ๑
๙. นายเฉลิม ปัญญาไวย  
ครูโรงเรียนอนุบาลเสาไห้  
สำนักงานเขตพื้นที่การศึกษาสระบุรี เขต ๑
๑๐. นางเพ็ญจิต เอกลักษณะดีลก  
ครูโรงเรียนอนุบาลเมืองอุทัยธานี  
สำนักงานเขตพื้นที่การศึกษาศรีอุทัยธานี เขต ๑
๑๑. นางอาภรณ์ แจ่มเศรษฐ  
ครูโรงเรียนอนุบาลชุมพร  
สำนักงานเขตพื้นที่การศึกษาศรีชุมพร เขต ๑
๑๒. นางสาวสมนึก ปัญญาพร  
ครูโรงเรียนอนุบาลหนองบัว (เทพวิทยาคม)  
สำนักงานเขตพื้นที่การศึกษานครสวรรค์ เขต ๓
๑๓. นางลมัย ชัยเสนะ  
ครูโรงเรียนบ้านเขาแดง  
สำนักงานเขตพื้นที่การศึกษาสงขลา เขต ๑
๑๔. นางสาวกัญญิกา พราหมณ์พิทักษ์  
สำนักวิชาการและมาตรฐานการศึกษา

## ผู้ปรับปรุงแบบฝึกครั้งที่ ๒

๑. นายกระจาย คงสง  
ศึกษานิเทศก์  
สำนักงานเขตพื้นที่การศึกษาพระนครศรีอยุธยา เขต ๑
๒. นายสุรชัย วงษ์พุดม  
ศึกษานิเทศก์  
สำนักงานเขตพื้นที่การศึกษาอุดรธานี เขต ๓
๓. นางสาวจุฬาทิพย์ จงเรียน  
ครูโรงเรียนมหาวิทยาลัยราชภัฏ  
สำนักงานเขตพื้นที่การศึกษากทมมหานคร เขต ๑
๔. นางสาวพรณี ฮาดระวัง  
ครูโรงเรียนบ้านหนองคะเน  
สำนักงานเขตพื้นที่การศึกษาขอนแก่น เขต ๕
๕. นางจรรยา เสรีจกิจ  
ครูโรงเรียนสุพรรณภูมิ  
สำนักงานเขตพื้นที่การศึกษาสุพรรณบุรี เขต ๑
๖. นางฐิติรัตน์ มิตรศรี  
ครูโรงเรียนศรีขวัญเมือง  
สำนักงานเขตพื้นที่การศึกษาอุดรธานี เขต ๓
๗. นางสาวจตุพร เศวตวงษ์  
ครูโรงเรียนมหาวิทยาลัยราชภัฏ  
สำนักงานเขตพื้นที่การศึกษากทมมหานคร เขต ๑

๘. นางสาววาณี คมขำ  
ครูโรงเรียนวัดชัยชนะสงคราม  
สำนักงานเขตพื้นที่การศึกษากทมมหานคร เขต ๑
๙. นางอรณิชา เขียมรักษา  
ครูโรงเรียนวัดด่านสำโรง  
สำนักงานเขตพื้นที่การศึกษาสมุทรปราการ เขต ๑
๑๐. นายเสวี ตั้งขุนทด  
ครูโรงเรียนวัดสว่างอารมณ์  
สำนักงานเขตพื้นที่การศึกษาพระนครศรีอยุธยา เขต ๑
๑๑. นายเฉลิม ปัญญาไวย  
ครูโรงเรียนอนุบาลเส้าไห้  
สำนักงานเขตพื้นที่การศึกษาสระบุรี เขต ๑
๑๒. นางสาวกัญนิกา พรหมณพิทักษ์  
สำนักวิชาการและมาตรฐานการศึกษา

### ผู้บรรณาธิการ

๑. นางสาวกัญนิกา พรหมณพิทักษ์  
สำนักวิชาการและมาตรฐานการศึกษา
๒. นางสาววรรณัน ขุนศรี  
สำนักวิชาการและมาตรฐานการศึกษา

### ผู้จัดพิมพ์ต้นฉบับ

๑. นางสาวชลฤทัย ผลวาทิต  
สำนักเทคโนโลยีเพื่อการเรียนการสอน
๒. นางสาวจรรยาศรี แจบไธสง  
สำนักวิชาการและมาตรฐานการศึกษา